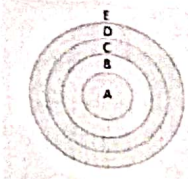


- ஆ) உலகிலேயே மிக அதிக பெண்ணுக்கு ஆண் விகிதாசாரத்தைக் கொண்டள்ள நாடு சுத்தார். உலகிலேயே அதிக ஆணுக்குப் பெண் விகிதாசாரத்தைக் கொண்டுள்ள நாடு லாட்வியா ஆகும்.
- இ) இந்தியாவில் திரிபுரா அதிக அளவு கல்வியறிவு விகிதத்தைக் கொண்டுள்ளது. பீகார் மிகக்குறைந்த கல்வியறிவு விகிதத்தைக் கொண்டுள்ளது.
- ஈ) அதிகரிக்கும் வேலைவாய்ப்பின்மை, குற்றம், மற்றும் வன்முறை ஏற்படக்காரணம் குறைந்த மக்கள் தேவையாகும்.
10. பின்வரும் வாக்கியங்களில் மற்ற எல்லாம் சரியானவை ஒன்றைத் தவிர.
 அ) உலக மக்கள்தொகையில் இந்தியாவின் மக்கள் தொகை 17.74% சதவிகிதமாகும்.
 ஆ) இந்தியாவின் மக்களடர்த்தி சதுர கிலோ மீட்டருக்கு 350 பேர்.
 இ) 33.2 சதவிகித மக்கள் நகரவாசிகளாவர்.
 ஈ) உலக மக்கள் தொகையில் இந்தியா இரண்டாம் இடத்தை வகிக்கிறது.
11. அதிக மக்கள் தொகை அடர்த்தி இல்லா பகுதி
 அ) இந்தியாவில் கங்கை மற்றும் பிரம்மபுத்திரா சமவெளி ஆ) சீனாவில் ஹவாங்-ஹோ சமவெளி
 இ) வடமேற்கு ஐரோப்பா மற்றும் அமெரிக்காவின் சமவெளிகள் ஈ) அமேசான் மற்றும் காங்கோ பகுதிகள்
12. பின்வரும் கூற்றுக்களில் எது தவறானது?
 i) வறண்ட அல்லது வழக்கமான வறட்சியால் பாதிக்கப்படும் பகுதிகளைக் காட்டிலும் போதுமான நீர் உள்ள பகுதிகள் அடர்த்தியான மக்கள் தொகையைக் கொண்டிருக்கின்றன.
 ii) இந்தியாவின் வடக்கு சமவெளிகளின் நன்கு நீர் பாசனம் செய்யப்படும் பகுதிகள் குறைந்த மக்கள்தொகை கொண்டவை. அதே சமயம் சஹாராவின் வறட்சிப் பகுதிகள் அடர்த்தியான மக்கள்தொகை கொண்டவை.
 அ) i) மட்டும் ஆ) ii) மட்டும் இ) i) மற்றும் ii) ஈ) இரண்டுமில்லை
13. பின்வரும் காரணிகளில் ஒன்று அதிக மக்கள் அடர்த்திக்கு சாதகமாக காணப்படுகிறது.
 அ) சிறந்த பொருளாதார நிலை மற்றும் சாதகமான காலநிலை ஆ) வேலையின்மை மற்றும் மத சகிப்புத்தன்மை
 இ) மோதல்கள் மற்றும் போர்கள் ஈ) அரசியல் ஸ்திரமின்மை மற்றும் அதிக பணவீக்கம்
14. பின்வருவனவற்றில் ஒன்று மக்கள்தொகைப் பரவலைத் தீர்மானிக்கும் இயற்காரணியாகும்.
 அ) சாதகமற்ற காலநிலை ஆ) வேலையின்மை
 இ) மத சகிப்பின்மை ஈ) மோதல்கள் மற்றும் போர்கள்
15. பின்வருவனவற்றில் எது தவறான கூற்று?
 அ) மக்கள் தொகை அடர்த்தி என்பது ஒரு சதுர கிலோமீட்டரில் வாழும் நபர்களின் எண்ணிக்கை
 ஆ) உடலியல் / ஊட்டச்சத்து அடர்த்தி என்பது ஒரு சதுர கிலோமீட்டர் விளை நிலத்தில் வாழும் விவசாயிகளின் எண்ணிக்கையாகும்.
 இ) உலக மக்கள் தொகையில் 60% மக்கள் தொகையை பத்து நாடுகள் கொண்டுள்ளன.
 ஈ) உலகம் முழுவதும் மக்கள்தொகை பரவல் சீரற்றதாக உள்ளது.
16. பின்வருவனவற்றில் ஒன்று மக்கள்தொகை அதிக அடர்த்தி கொண்ட பகுதி அல்ல.
 அ) கிழக்கு ஆசியா ஆ) தெற்கு ஆசியா
 இ) அமெரிக்காவின் வடகிழக்கு பகுதி ஈ) கிரீன்லாந்து
17. கீழ்க்கண்டவற்றில் எந்த குறைந்த மக்களடர்த்தி பகுதி தென் அமெரிக்காவில் அமைந்துள்ளது?
 அ) கல்காரி ஆ) சகாரா இ) அட்டகாமா ஈ) தார்
18. பின்வருவனவற்றில் ஒரு சதுர கி.மீக்கு சராசரியாக 2 நபர்களின் மக்கள் தொகை அடர்த்தி உள்ள நாடு எது?
 அ) ஆஸ்திரேலியா ஆ) பிரேசில் இ) தென்னாப்பிரிக்கா ஈ) ஜெர்மனி
19. கொடுக்கப்பட்டவற்றிலிருந்து தவறான வாக்கியத்தை அடையாளம் காணவும்.
 அ) கச்சா பிறப்பு விகிதம் என்பது ஒரு வருடத்தில் ஆயிரம் பேருக்கு உயிருள்ள பிறப்புகளின் எண்ணிக்கை
 ஆ) இறப்பு விகிதம் என்பது ஒரு வருடத்தில் பத்தாயிரம் பேருக்கு இறப்பவர்களின் எண்ணிக்கை
 இ) நிகர இடம்பெயர்வு விகிதம் $N = 1000 \times (I - E) / P$
 ஈ) இயற்கை வளர்ச்சி விகிதம் $(RNI) = CBR - CDR (+ / - நிகர இடம்பெயர்வு)$
20. தெற்கு குடானில் 2017 இல் 3.83% மக்கள் தொகை வளர்ச்சி விகிதம் என்பது கீழ்க்கண்ட ஒன்றைக் குறிக்கவில்லை
 அ) இது உயர் கல்வியறிவு விகிதத்தைக் கொண்டுள்ளது.
 ஆ) இது அதிக இளைஞர்களின் விகிதத்தைக் கொண்டுள்ளது.
 இ) இது அதிக மொத்த உள்நாட்டு உற்பத்தியைக் கொண்டுள்ளது.
 ஈ) இது உயர்ந்த வாழ்க்கைத் தரத்தைக் கொண்டுள்ளது.
21. நூற்றுக்கணக்கான, ஆயிரக் கணக்கான ஆண்டுகளுக்கு முன்மனிதர்கள் முதலில் தோன்றிய இடம் என்று மானுவலியலாளர்கள் நம்புவது
 அ) யூரேஸ் மற்றும் டைக்ரிஸ் பள்ளத்தாக்கு ஆ) ஆசியாவின் சிந்து பள்ளத்தாக்கு
 இ) கிழக்கு ஆப்பிரிக்காவில் பெரிய பிளவுப் பள்ளத்தாக்கு ஈ) ஆப்பிரிக்காவின் நைல் பள்ளத்தாக்கு

22. 1 மில்லியன் மக்கள் தொகை கொண்ட முதல் நகர்ப்புறக் குடியிருப்பு (மில்லியன் நகரம்)
 அ) இலண்டன் ஆ) பாரிஸ் இ) நியூயார்க் ஈ) டோக்கியோ
23. 2050 ல் வளர்ந்து வரும் மற்றும் வளர்ந்த நாடுகளில் நகரமயமாகும் என்று கணிக்கப்பட்ட அளவு
 அ) முறையே 74% & 76% ஆ) முறையே 64% & 86%
 இ) முறையே 54% & 96% ஈ) முறையே 44% & 66%
24. 2011 ஆம் ஆண்டுக்கணக்கெடுப்பின்படி கீழ்வருவனவற்றுள் எது சரியானது?
 அ) டெல்லியின் மக்கள்தொகை 4.1% உயர்ந்தது ஆ) மும்பையின் மக்கள்தொகை 5.1% உயர்ந்தது.
 இ) கொல்கத்தாவின் மக்கள்தொகை 4% உயர்ந்தது ஈ) சென்னையின் மக்கள்தொகை 5% உயர்ந்தது.
25. மைய மண்டல கோட்பாடு மாதிரியைப் பொருத்தவரை பின்வருவனவற்றுள் எந்த வாக்கியம் உண்மையானதல்ல?
 (குவறானது)



- அ) இந்த மாதிரி 1825 ல் எர்னஸ்ட் பர்கஸ் என்பவரால் கொடுக்கப்பட்டது.
 ஆ) படத்தில் E என்னும் எழுத்து குறிப்பது நடுத்தர வகுப்பு குடியிருப்புகள்
 இ) ஒரு நகரத்தின் வளர்ச்சியானது மையத்திலிருந்து வெளிநோக்கி சிற்றலைகள் போல் வட்ட வடிவங்களில் அமையும் என்று சிந்தித்தார்.
 ஈ) படத்தில் B எனும் எழுத்து மாறும் மண்டலத்தைக் குறிக்கும்.

26. கீழே கொடுக்கப்பட்டுள்ள வாக்கியங்களை கருத்தில் கொண்டு சரியான விடையைத் தேர்ந்தெடு.
 வாக்கியம் I : நகர்ப்புற விளிம்பு என்பது நன்கு அறியப்பட்ட நகர்ப்புறப் பயன்பாடுகள் காணப்படும். நிலத்திற்கும், வேளாண் தொழிலுக்காக ஒதுக்கப்பட்ட நிலத்திற்குமிடையில் உள்ள மாறுதல் நிகழும் பகுதியாகும்.
 வாக்கியம் II : நகர்ப்புற விரிவாக்கம் அல்லது புறநகர் விரிவாக்கம் என்பது மத்திய நகர்ப்புறப் பகுதிகளிலிருந்து அடர்த்தி குறைந்த ஒரேயொரு நிலப்பயன்பாடு கொண்ட மற்றும் பொதுவாக மோட்டார்காரை மட்டும் சார்ந்த குழுக்கள் வாழும் பகுதியில் மக்கள்தொகை விரிவாக்கம் நடைபெறுவதை விவரிக்கிறது. இச்செயல்முறை புறநகர் விரிவாக்கம் என்றும் அழைக்கப்படும்.

- அ) வாக்கியம் I சரியானது. வாக்கியம் II தவறானது ஆ) வாக்கியம் I தவறானது, வாக்கியம் II சரியானது
 இ) வாக்கியம் I மற்றும் II சரியானவை ஈ) வாக்கியம் I மற்றும் II தவறானவை.

27. பட்டியல் I மற்றும் பட்டியல் II ஐப் பொருத்தி கொடுக்கப்பட்டுள்ள குறியீடுகளைப் பயன்படுத்தி விடையளிக்கவும்.

பட்டியல் - I	பட்டியல் - II	1	2	3	4
1) நிர்வாக நகரம்	i) பிட்ஸ்பர்க்	அ) i)	ii)	iii)	iv)
2) பொழுதுபோக்கு நகரம்	ii) டீஜிங்	ஆ) iii)	iv)	i)	ii)
3) சமய நகரம்	iii) மியாமி	இ) iv)	iii)	ii)	i)
4) தொழில் நகரம்	iv) ஜெருசலேம்	ஈ) ii)	iii)	iv)	i)

28. பின்வரும் வாக்கியங்களில் நகரமயமாதல் பற்றிய தவறான வாக்கியம் எது?

- அ) அதிக அளவு வேலையின்மை வீதம் மற்றும் தகுதிக்குக் குறைவான வேலை ஆகியவை குற்ற வீதம் அதிகரிக்கக் காரணங்களாக உள்ளன.
 ஆ) நகர்ப்புற இடங்களில் மக்கள் குவிவதால் சமூகவசதிகள் அதிக அழுத்தத்திற்கு உள்ளாகின்றன.
 இ) குப்பை சேகரிக்கும் இடங்களின் பற்றாக்குறை கிராம - நகர விளிம்பை ஆர்கானிக் (Organic - கரிம) வளம் மிகுந்ததாகவும் மனித உடல்நலத்திற்கு அதிகம் உகந்ததாகவும் ஆக்குகிறது.
 ஈ) இடப்பற்றாக்குறைக் காரணமாக நிலத்தின் விலை அதிகரிப்பதுடன் அலுவலகம் மற்றும் குடியிருப்புகளின் வாடகை அதிகரிக்கிறது.

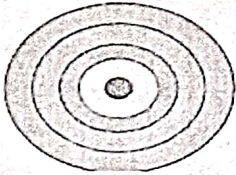
29. பின்வருவனவற்றுள் எது / வை நிலையான நகர்ப்புற பகுதியின் பண்புக்கூறு / கூறுகள்?

- (i) குறைந்தது 50,000 மக்கள்தொகை கொண்ட முக்கிய நகரமாக இருத்தல் வேண்டும்.
 (ii) நகர்ப்புற மற்றும் கிராமப்புற நிர்வாகக் குழுக்களைக் கொண்ட தொடர்புபகுதிகள் முக்கிய நகரத்தோடு நெருக்கமான, பரஸ்பர, சமூகப் பொருளாதார தொடர்புகளைக் கொண்டிருக்க வேண்டும்.
 (iii) 2 அல்லது 3 பத்தாண்டுகளில் இந்த முழுப்பகுதியும் நகரமயமாகலாம்.
 அ) (i), (ii) மற்றும் (iii) ஆ) (i) மற்றும் (iii) இ) (ii) மற்றும் (iii) ஈ) (iii) மட்டும்

30. சிதறிய குடியிருப்பு பற்றிய பின்வரும் வாக்கியங்களில் எது தவறானது?

- அ) வீடுகள் இடைவெளி விட்டுக் காணப்படும். ஆ) வயல்வெளிகளோடு கலந்திருக்கும்.
 இ) சந்தை மற்றும் பிற செயல்பாடுகள் மையப்படுத்தப்பட்டு இருப்பதால் மக்கள் ஒன்று சேர்ந்து பங்கெடுப்பார்கள்.
 ஈ) வளமான ஆற்றுப் பள்ளத்தாக்கில் காணப்படுகிறது.

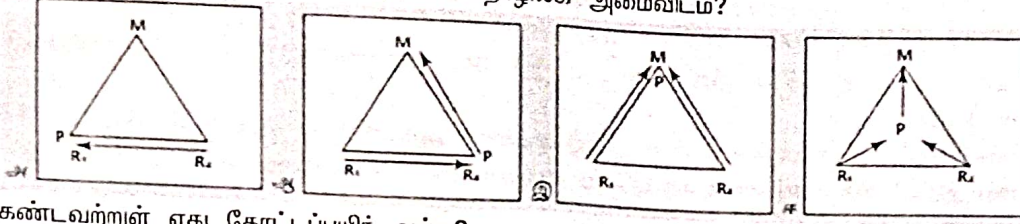
55. உலகில் இரும்புத் தாதுவை அதிகம் உற்பத்தி செய்யும் நாடு எது?
 அ) அமெரிக்கா ஆ) கனடா இ) ஆஸ்திரேலியா ஈ) இந்தியா
56. ஜெர்மனியில் அமைந்துள்ள இரும்புத் தாது வயல்
 அ) இடாபிரா ஆ) கிரிவோய் ரோக் இ) ரூர் பள்ளத்தாக்கு ஈ) மவுண்ட் புரூஸ்
57. சிறப்புத் தரமான எஃகு தயாரிக்கப் பயன்படும் ஒரு வகையான ஃபெரா-அலாய் மற்றும் உற்பத்திச் செயல்பாட்டில் சுத்தப்படுத்தியாகச் செயல்படுவது எது?
 அ) செம்பு ஆ) நிலக்கரி இ) மாங்கனீசு ஈ) பாக்கைட்
58. உலகில் மாங்கனீசு தாதுவை அதிகம் உற்பத்தி செய்யும் நாடு எது?
 அ) ஆஸ்திரேலியா ஆ) ரஷ்யா இ) தென்னாப்பிரிக்கா ஈ) அமெரிக்கா
59. உலகில் எந்த நாட்டில் மாங்கனீசு அதிக அளவில் இருப்பு உள்ளது?
 அ) ரஷ்யா ஆ) ஆஸ்திரேலியா இ) இந்தியா ஈ) சீனா
60. இது இரும்பு அல்லாத, மென்மையான பழுப்பு உலோகம். இது ஒரு நல்ல மின்கடத்தி, அதிக பளபளப்பு, அடர்த்தி மற்றும் உருகும் புள்ளியுடையது. இது அதன் தூய நிலையில் சொந்த உலோகம், ஆக்சைடுகள் மற்றும் சல்பைடு என மூன்று வடிவங்களில் நிகழ்கிறது. பெயரிடு.
 அ) பாக்கைட் ஆ) இரும்பு தாது இ) மாங்கனீசு ஈ) செம்பு
61. விட்டி கல்சர் அல்லது திராட்சை சாகுபடி சிறப்பாக நடைபெறும் இடம்
 அ) பாம்பாஸ் பகுதி ஆ) சவானா பகுதி இ) சகாரா பகுதி ஈ) மத்திய தரைக்கடல் பகுதி
62. பின்வருவனவற்றில் எது வளர்ச்சியடைந்த நாடுகளை உள்ளடக்கியது?
 அ) ஆஸ்திரேலியா, கென்யா, பாகிஸ்தான், ஜெர்மனி மற்றும் இத்தாலி
 ஆ) ஆஸ்திரேலியா, கனடா, பிரான்ஸ், ஜெர்மனி மற்றும் இத்தாலி
 இ) ஆஸ்திரேலியா, இலங்கை, தாய்லாந்து, ஜெர்மனி மற்றும் இத்தாலி
 ஈ) பாகிஸ்தான், இலங்கை, பிரான்ஸ், ஜெர்மனி மற்றும் இத்தாலி.
63. இவற்றில் எது தவறாக பொருந்தியுள்ளது?
 பழங்குடியினர் பகுதி
 அ) இன்யூட்கள் - ஆர்டிக் பகுதி
 ஆ) பிக்மிக்கள் - கலகாரி பகுதி
 இ) அபாரிஜின்ஸ் - தென் அமெரிக்க பகுதி
 ஈ) பாலியன் - தென் இந்தியப் பகுதி
64. வான்தூனனின் வேளாண் மாதிரியின்படி நகர்ப்புற மையத்திலிருந்து வெளிப்புறம் நோக்கி அமைந்துள்ள 4 வளைய வரிசை அமைப்புகள்



- அ) தானியங்கள் மற்றும் பயிர்நிலங்கள், சந்தை, காடுகள், பால்பண்ணை மற்றும் மேய்ச்சல்
 ஆ) காடுகள், சந்தை, தானியங்கள் மற்றும் பயிர் நிலங்கள், பால்பண்ணை மற்றும் மேய்ச்சல்
 இ) சந்தை, பால்பண்ணை, காடுகள், தானியங்கள் மற்றும் பயிர்நிலங்கள் மேய்ச்சல்
 ஈ) மேய்ச்சல், சந்தை, காடுகள், தானியங்கள் மற்றும் பயிர்நிலங்கள் மற்றும் பால்பண்ணை

65. பின்வருவனவற்றில் எது மிகவும் பின்தங்கிய நாடுகளின் பண்பு அல்ல?
 அ) குறைந்த மொத்த உள்நாட்டு உற்பத்தி ஆ) அதிக எழுத்தறிவு விகிதம்
 இ) சமமற்ற வருவாய் பரவல் ஈ) அதிக அளவிலான வேலையின்மை
66. பின்வரும் கூற்றுக்களில் ஒன்று மட்டும் வான்தூனனின் வேளாண் மாதிரியின் அனுமானம் அல்ல.
 அ) இது தனித்த ஆக்கிரமிப்பற்ற காடுகளால் சூழப்பட்டு காணப்படுகின்றது.
 ஆ) இந்த நிலப்பகுதி முழுவதும் ஆறுகளாலோ, மலைகளாலோ குறுக்கிடாத சமமான புவிப்பரப்பை கொண்டுள்ளது.
 இ) இப்பகுதி முழுவதும் மண்ணின் தன்மையும் காலநிலையும் சீரற்ற காணப்படுகிறது.
 ஈ) விவசாயிகள் அதிகபட்ச லாபத்திற்காக செயல்படுகிறார்கள்.
67. தவறாக பொருந்தியுள்ளதைக் கண்டறிக.
 அ) கனரக தொழிற்சாலை - இரும்பு எஃகு தொழிற்சாலை
 ஆ) இலகு ரக தொழிற்சாலை - தையல் இயந்திர தொழிற்சாலை
 இ) தனியார் தொழிற்சாலை - பிலாய் எஃகு தொழிற்சாலை
 ஈ) பொதுத்துறை தொழிற்சாலை - பாரத் கனரக மின்சாத நிறுவனம்
68. பின்வருவனவற்றில் எது வளர்ந்த நாடுகளின் பண்பு அல்ல?
 அ) தனிநபர் வருமானம் குறைவு ஆ) சிறந்த வாழ்க்கைத் தரம் மற்றும் வீட்டுவசதி
 இ) அதிகமான மொத்த உள்நாட்டு உற்பத்தி ஈ) மேம்பட்ட அடிப்படை வசதிகளும், தொழில் நுட்பங்களும்

69. பின்வரும் வரைபடத்தில் எது லாபகரமான தொழிலக அமைவிடம்?



70. கீழ்க்கண்டவற்றுள் எது தோட்டப்பயிர் அல்ல?

அ) தேயிலை ஆ) காப்பி

இ) சோளம்

ஈ) கோகோ

71. தவறாகப் பொருந்திய ஒன்றைக் கண்டறியவும்.

பொருளாதார நடவடிக்கை

தொழிலாளர் பெயர்

அ) முதல் நிலை

- சிவப்பு கழுத்துப் பட்டை

ஆ) இரண்டாம் நிலை

- பச்சை கழுத்துப் பட்டை

இ) மூன்றாம் நிலை

- இளஞ்சிவப்பு கழுத்துப் பட்டை

ஈ) நான்காம் நிலை

- வெள்ளை கழுத்துப் பட்டை

72. மலேசியாவில் இடம்பெயர்தல் சாகுபடி ----- என்று அழைக்கப்படுகிறது.

அ) ஜம்மிங்

ஆ) லடாங்

இ) செங்கின்

ஈ) மில்பா

73. இது ஒரு விவசாய அமைப்பாகும். இதில் ஒரு விவசாயி வெவ்வேறு விவசாயத்தை ஒரே நிலத்தில் ஒன்றாக செய்கிறார்.

அ) தீவிர விவசாயம்

ஆ) விரிவான விவசாயம்

இ) கலப்பு விவசாயம்

ஈ) இயற்கை விவசாயம்

74. எது சரியாகப் பொருந்தும்?

அ) பொமோலஜி - பூக்களை வளர்ப்பது பற்றிய ஆய்வு

ஆ) ஒலரிகல்ச்சர் - காய்கறி வளர்ப்பின் அறிவியல்

இ) புளோரி கல்ச்சர் - வளரும் பழங்களைக் குறிக்கிறது

ஈ) பட்டு வளர்ப்பு - திராட்சை சாகுபடியைக் குறிக்கிறது.

75. இது "டிராக் விவசாயம்" என்றும் அழைக்கப்படுகிறது.

அ) தோட்ட விவசாயம்

ஆ) தோட்டக்கலை

இ) திராட்சை வளர்ப்பு

ஈ) பட்டுவளர்ப்பு

76. "தனித்த நிலம்" என்ற புத்தகத்தை எழுதியவர் யார்?

அ) அலெக்சாண்டர் வான் ஹம்போல்ட்

ஆ) வான் தூனன்

இ) அஃப்ரெட் வெஜெனர்

ஈ) கார்ல் ரிட்டர்

77. வான தூனன் மாதிரியில், மத்தில் நகரத்தைச் சுற்றியுள்ள ----- இல் பண்ணை வளர்ப்பு அமைந்துள்ளது.

அ) முதல் வளையம்

ஆ) இறுதி வளையம்

இ) இரண்டாவது வளையம்

ஈ) மூன்றாவது வளையம்

78. பின்வருவனவற்றில் எது "மதிப்பு கூட்டல் துறை" என்றும் அழைக்கப்படுகிறது?

அ) முதன்மை தொழில்

ஆ) இரண்டாம் நிலை தொழில்

இ) மூன்றாம் நிலை தொழில்

ஈ) நான்காம் நிலை தொழில்

79. பின்வருவனவற்றில் ஒன்று மூன்றாம் நிலை தொணில் அல்ல.

அ) வர்த்தகம்

ஆ) போக்குவரத்து

இ) விவசாயம்

ஈ) தொலை தொடர்பு

80. இத்தொழிலில் உள்ளவர்கள் உயர் பதவிகள் மற்றும் அதிகாரங்களுடன் நியமிக்கப்பட்டுள்ளனர். மேலும் இந்த தொழில் பிரிவில் உள்ள இவர்கள் முக்கியமான எடுப்பவர்கள்.

அ) முதன்மை தொழில்

ஆ) இரண்டாம் நிலை தொழில்

இ) நான்காம் நிலை தொழில்

ஈ) ஐந்தாம் நிலை தொழில்

81. கீழே கொடுக்கப்பட்ட வாக்கியத்தில் உண்மையானது எது?

அ) இந்தியா உலகின் மிக அதிகமான மொழிகளைக் கொண்டுள்ளது.

ஆ) சீனா மற்றும் ரஷ்யாவிற்கு அடுத்து, இந்தியா உலகின் மூன்றாவது மிக அதிகமான மொழிகளைக் கொண்டுள்ளது.

இ) பப்புவா நியூ கினியாவுக்கு அடுத்து, இந்தியா உலகின் இரண்டாவது மிக அதிகமான மொழிகளைக் கொண்டுள்ள நாடாகும்.

ஈ) இந்தியா மற்றும் இங்கிலாந்து முறையே உலகின் மூன்று மற்றும் நான்காவது அதிக மொழிகளைக் கொண்டுள்ளன.

82. பின்வருவனவற்றில் பாரம்பரிய கலாச்சார பகுதிகள் பற்றிய தவறான கருத்து எது?

அ) மேற்கு ஐரோப்பிய கலாச்சாரம் தொழில்துறை மிகுந்த மற்றும் நகர்ப்புற கலாச்சாரமாகும்.

ஆ) இஸ்லாம் ஒரு முக்கிய செல்வாக்கை பெற்றுள்ள ஒன்றாக இருக்கும் வேளையில் கண்ட ஐரோப்பிய கலாச்சாரம்

பல்வேறு அரசியல் மற்றும் பொருளாதார சிந்தனைகளால் பாதிக்கப்படுகிறது.

இ) மத்திய தரைக்கடல் ஐரோப்பாவை உள்ளடக்கிய நாடுகள் ஆல்பஸ் மலைக்கு தெற்கே அமைந்துள்ளது. இது

கிறிஸ்துவ ஆதிக்கம் கொண்ட பகுதியாகும்.

ஈ) ஆங்கிலோ-அமெரிக்கன் மற்றும் ஆஸ்திரேலிய கலாச்சார பகுதிகள் நடைமுறையில் மேற்கு ஐரோப்பிய கலாச்சாரத்தின் குழந்தைகள் எனலாம்.

83. ஒவ்வொரு ----- ஒரு மொழி இறப்பதாக மதிப்பிடப்பட்டுள்ளது.

அ) 14 நிமிடங்களில்

ஆ) 14 நிமிடங்களில்

இ) 14 மாதங்களில்

ஈ) 14 ஆண்டுகளில்

84. யுனெஸ்கோவின் கருத்துப்படி ஆபத்தான மொழிகளின் ஐந்து நிலைகளில் குழந்தைகள் பேசாத நிச்சயமாக ஆபத்து நிலையில் உள்ள மொழிகளின் எண்ணிக்கை -----
 அ) 457 மொழிகள் ஆ) 970 மொழிகள் இ) 646 மொழிகள் ஈ) 374 மொழிகள்
85. பின்வரும் கூற்றை கூறியவர் யார்?
 கிழக்கு ஐரோப்பாவை ஆட்சி செய்பவர்கள் மைய நிலப்பகுதியை ஆள்வார்கள். உலகத் தீவிற்கு கட்டளையிடும் மைய நிலப்பகுதியை ஆட்சி செய்பவர்கள் உலகத்தீவை ஆள்வார்கள். உலகத்தீவை ஆள்வார்கள்.
 அ) ஹம்போல்ட் ஆ) ஹட்டன் இ) ஸ்பைக்மேன் ஈ) மெக்கிண்டர்
86. எந்த நாடு அதிக எண்ணிக்கையிலான அண்டை நாடுகளுடன் எல்லைகளைக் கொண்டுள்ளது?
 அ) சீனா ஆ) கனடா இ) ரஷ்யா ஈ) இந்தியா
87. பின்வருவனவற்றில் தப்பிய (எஞ்சிய) எல்லைக்கோட்டிற்கும் உதாரணம் யாது?
 அ) பெர்சியா மற்றும் கிழக்கு, மேற்கு ஜெர்மனி இடையே உள்ள எல்லை
 ஆ) பாகிஸ்தானால் ஆக்கிரமிக்கப்பட்ட காஷ்மீர் பகுதி
 இ) வட ஆப்பிரிக்கா மற்றும் அமெரிக்க ஐக்கிய நாட்டின் எல்லைகள்
 ஈ) ஐரோப்பிய நாடுகள்
88. மைய நிலக் கோட்பாட்டை வெளியிட்டவர் யார்?
 அ) ஹம்போல்ட் ஆ) ஹட்டன் இ) ஸ்பைக்மேன் ஈ) மெக்கிண்டர்
89. பின்வருபவற்றின் அனைத்தும் மெக்கிண்டரின் மைய நிலக் கோட்பாட்டை ஆதரிக்கின்றன. ஒன்றைத் தவிர
 அ) வட கடல், நார்வே கடல், பாரன் கடல், காரா கடல், லாப்டேவ் கடல், கிழக்கு சைபீரியன் கடல் ஆகியவை ஆண்டு முழுவதும் உறைந்து போயிருப்பதால் மைய நிலப்பகுதியை மேலிருந்து அணுக முடியாது.
 ஆ) மத்திய கிழக்கு பாலைவனம், ஈரானிய பீடபூமி, இமயமலை, திபெத் பீடபூமி மற்றும் சைபீரியன் மலைகள் ஆகியவற்றின் காரணமாக மைய நிலப்பகுதிக்கு ஒரே நுழைவுவாயில்.
 இ) கிழக்கு ஐரோப்பாதான் மைய நிலப்பகுதிக்கு ஒரே நுழைவுவாயில்.
 ஈ) இது எந்தவொரு பக்கத்திலும் இருந்தும் மைய நிலப்பகுதி தாக்கப்படும் வகையில் பலவீனமாக இருக்கிறது.
90. எது சரியாக பொருந்தியுள்ளது.
 அ) ஆஸ்ட்ரிக் - முண்டா, மான் கிமர் ஆ) சீன - ஹிந்தி, உருது, சமஸ்கிருதம்
 இ) இந்தோ - ஆரியன்-திபெத்தியன்-போடா, கரேன், மணிப்பூரி போன்றவை
 ஈ) திராவிட - சமஸ்கிருதம், கரேன், மணிப்பூரி முதலியன.
91. சுமார் மூன்று சதுர கி.மீ. மட்டுமே உள்ளடக்கிய கலாச்சாரப் பகுதி
 அ) இந்திய கலாச்சாரம் ஆ) ஸ்பானிஷ் ஹார்லெம் கலாச்சாரம்
 இ) நீக்ரோ கலாச்சாரம் ஈ) லத்தீன் அமெரிக்க கலாச்சாரம்
92. மிகவும் தொழில்மயமாக்கப்பட்ட மற்றும் நகரமயமாக்கப்பட்ட கலாச்சாரம் எது?
 அ) மேற்கு ஐரோப்பிய கலாச்சாரம் ஆ) தென் கிழக்கு ஆசிய கலாச்சாரம்
 இ) லத்தீன் அமெரிக்க கலாச்சாரம் ஈ) இந்திய கலாச்சாரம்
93. ஐரோப்பாவிற்குள் ஆல்ப்ஸின் தெற்கே அமைந்துள்ள கலாச்சாரம்
 அ) மத்திய தரைக்கடல் ஐரோப்பா கலாச்சாரம் ஆ) ஆங்கிலோ - அமெரிக்க கலாச்சாரம்
 இ) லத்தீன் அமெரிக்க கலாச்சாரம் ஈ) இந்திய கலாச்சாரம்
94. மேற்கில் மொராக்கோ முதல் கிழக்கில் பாகிஸ்தான் வரை பரந்த புவியியல் பகுதியை உள்ளடக்கிய கலாச்சாரம் எது?
 அ) இந்திய கலாச்சாரம் ஆ) இஸ்லாமிய கலாச்சாரம்
 இ) தென்கிழக்கு ஆசிய கலாச்சாரம் ஈ) ஆங்கிலோ - அமெரிக்க கலாச்சாரம்
95. இந்த கலாச்சாரம் அடிப்படையில் வட்டார மாற்றங்களுடன் காணப்படும் ஒரு பௌத்த கலாச்சாரம்
 அ) தென்கிழக்கு ஆசிய கலாச்சாரம் ஆ) கிழக்கு ஆசிய கலாச்சாரம்
 இ) இந்திய கலாச்சாரம் ஈ) ஆங்கிலோ - அமெரிக்க கலாச்சாரம்
96. பின்வருவனவற்றுள் எது உலகின் மனித இனத்தை வகைப்படுத்துவதற்கான அளவுகோல் அல்ல.
 அ) தலை வடிவம் ஆ) முக வடிவம் இ) நாடித்துடிப்பு வடிவம் ஈ) முடி வகை
97. பூர்வீக அமெரிக்கர்கள் (செவ்விந்தியர்கள்) மற்றும் எஸ்கிமோக்கள் இதில் உட்படுகின்றனர்?
 அ) மங்கோலாய்டு ஆ) நீக்ராய்டு இ) காசாய்டு ஈ) ஆஸ்ட்ராலாய்டு
98. பப்புவா நியூ கினியாவில் எந்த இனம் அதிக ஆதிக்கம் செலுத்துகிறது?
 அ) மங்கோலாய்டு ஆ) நீக்ராய்டு இ) காசாய்டு ஈ) ஆஸ்ட்ராலாய்டு
99. Rh(D) இரத்தக் குழுவை எந்த இனம் அதிகமாக கொண்டுள்ளது?
 அ) மங்கோலாய்டு ஆ) நீக்ராய்டு இ) காசாய்டு ஈ) ஆஸ்ட்ராலாய்டு
100. உலகிலேயே மிக அதிக மொழிகள் பேசப்படும் நாடு எது?
 அ) இந்தியா ஆ) பப்புவா நியூ கினி இ) சீனா ஈ) ரஷ்யா